

جامعة همدان

كلية الهندسة

قسم العمارة والتخطيط العمراني

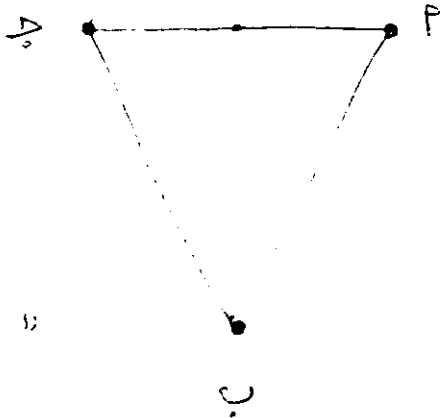
امتحان نهائي / مادة الظل الهندسي

اجب على جميع الاسئلة

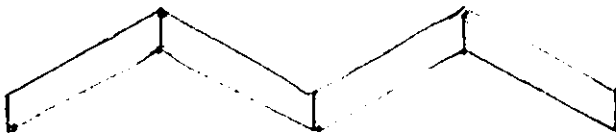


1 اوجد ظل المستوي

(P بـ ج) ؟





« 10 درجات »



ا اوجد ظل المظلة
الاجلونية على الحائط ؟

« 10 درجات »

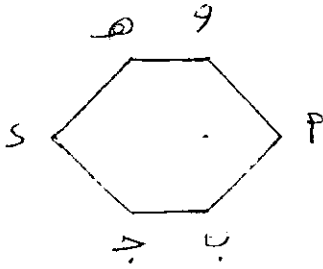




أوجد ظل العمود السداسي ؟


ص 3

« 50 درجات »



أوجد ظل المظلة على الجانث ؟

ص 4



« 50 درجات »

