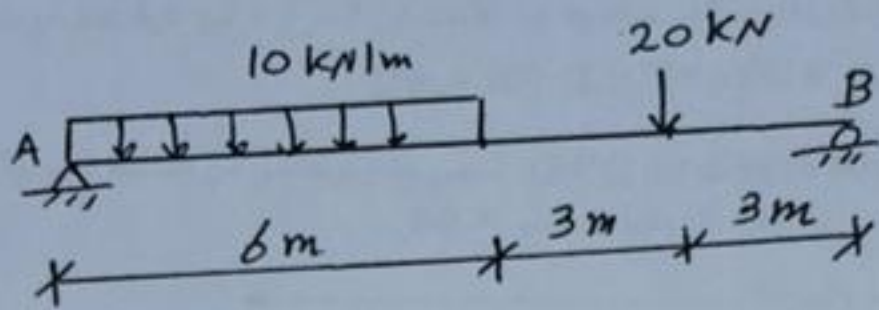


الافتحانه الجزئي - تحليل انشائي

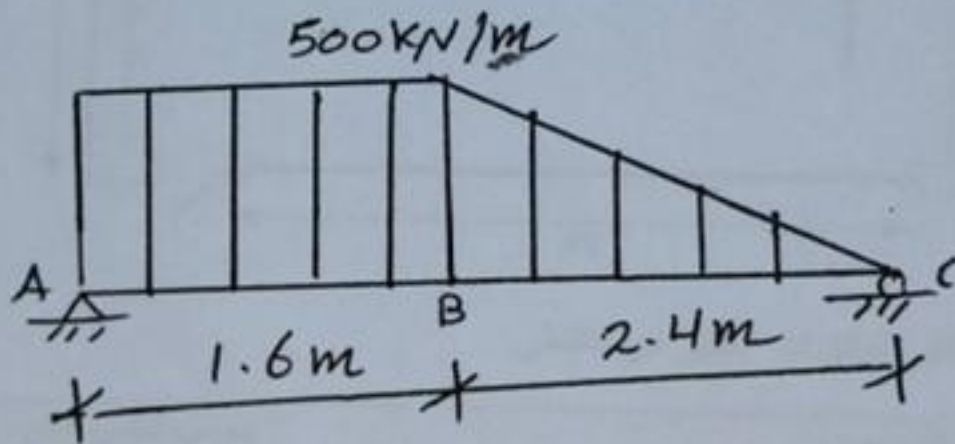
الزمن ساعة وربع

التاريخ: 15 - 01 - 2023

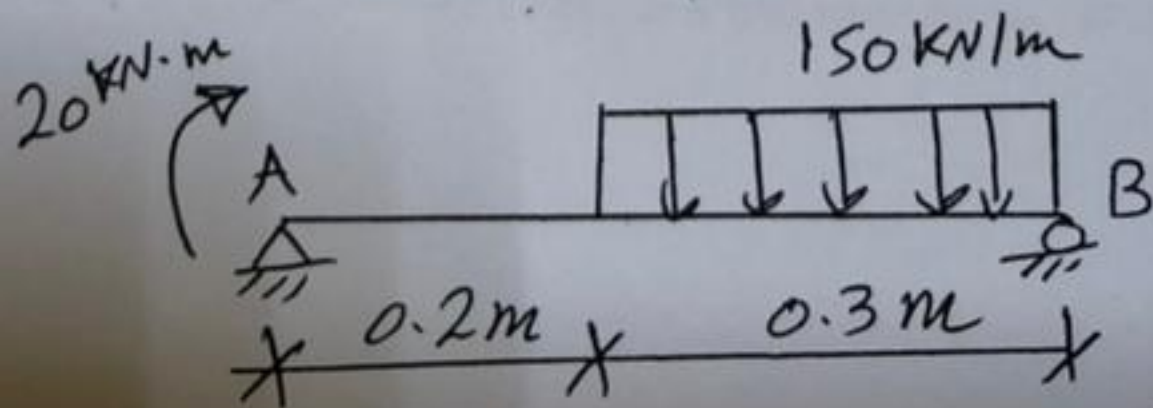
السؤال الأول - (6 درجات)
ارسم مخططات قوة القص وعزم الافناء للعارضة التالية



السؤال الثاني: (8 درجات)
ارسم مخططات قوة القص وعزم الافناء للعارضة التالية



السؤال الثالث (6 درجات)
ارسم مخططات قوى القص وعزم الافناء للعارضة التالية



بالتوفيق